

Dneska se dostane ke slovu Plusík. Budeme sčítat!


Přesně tak. Jakmile uvidíte **+**, znamená to, že dvě číslce musíte SEČÍST, tedy říct, kolik je to DOHROMADY.



$$1 + 1 = 2$$

$$2 + 1 = 3$$

$$1 + 2 = 3$$



$$1 + 1 = \square$$

$$2 + 1 = \square$$

$$1 + 2 = \square$$

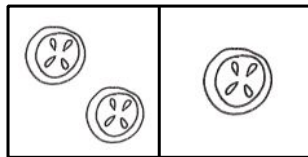
Počítej:

$$1 + 1 = \square$$



$$2 + 1 = \square$$

$$1 + 2 = \square$$

Napiš příklad a vypočítej:



$$2 + 1 = 3$$



Porovnej:

$$1 < 2$$

$$2 < 3$$

$$1 < 3$$

$$1 < 2$$

$$3 < 1$$

$$3 < 2$$

$$2 < 2$$

Nakresli tři žlutá kolečka, dva zelené trojúhelníky a jeden červený čtverec.

Počítej:

$$1 + 2 = \square$$

$$2 + 1 = \square$$

$$1 + 1 = \square$$