

POČÍTÁNÍ S PLUSÍKEM A MÍNUSKOU




Vypočítali jste minulé příklady? Dneska budou trochu složitější.

To je pravda. Dneska se naučíme odčítat. Koukněte se na moji sukýnku, ta červená čárka, to je MINUS




$$2 - 1 = 1$$

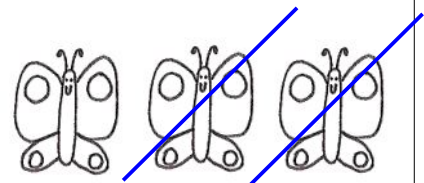
DVĚ **MINUS** JEDNA **ROVNÁ SE** JEDNA



$$2 - 1 = \square$$



$$3 - 1 = \square$$

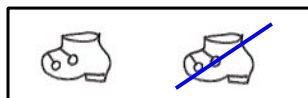


$$3 - 2 = \square$$

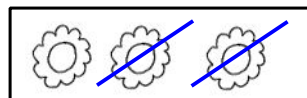
Počítej:

$$\begin{array}{l} 2 - 1 = \square \\ 3 - 1 = \square \\ 3 - 2 = \square \end{array}$$

Napiš příklad a vypočítej:



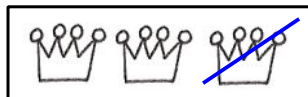
$$2 - 1 =$$




$$=$$



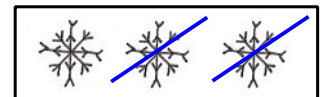
$$=$$



$$3 - 1 =$$




$$=$$



$$=$$

Zmrzlinář měl 3 zmrzliny. Pavlík si jednu koupil. Kolik jich zmrzlináři zbylo?



Znázorni a vypočítej.
Řekni odpověď.

Počítej:

$3 - 2 =$	
$2 - 1 =$	
$3 - 1 =$	